

| Zahlbereich |     |     |     |     |     |        |               |              |               | Rechenoperationen |             |                |          |        | Grundlagen |        |        |                |               |         |               |                     |
|-------------|-----|-----|-----|-----|-----|--------|---------------|--------------|---------------|-------------------|-------------|----------------|----------|--------|------------|--------|--------|----------------|---------------|---------|---------------|---------------------|
| 9           | 10  | 20  | 30  | 40  | 50  | 70     | 100           | 1.000        | 10.000        | Addition          | Subtraktion | Multiplikation | Division | Brüche | Prozente   | Zahlen | Mengen | Ganzes / Teile | Dezimalsystem | Uhrzeit | Volle Stunden | ablesen & eintragen |
| bis         | bis | bis | bis | bis | bis | bis    | bis           | bis          | größer 10.000 |                   |             |                |          |        |            |        |        |                |               |         |               |                     |
|             |     |     |     |     |     | ohne 0 | ohne Übertrag | mit Merkmahl |               |                   |             |                |          |        |            |        |        |                |               |         |               |                     |



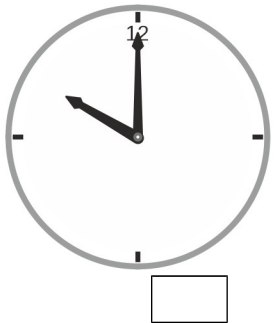
Name | Datum

Der kleine Zeiger heißt Stundenzeiger und der große Zeiger heißt Minutenzeiger.

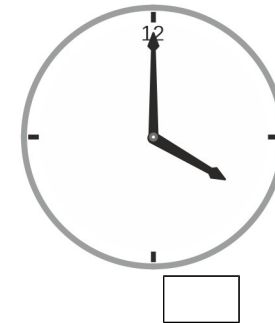

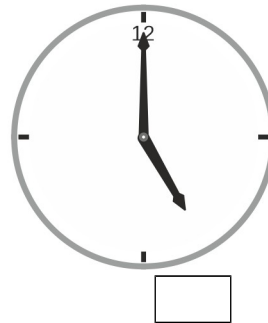
71\_10\_9 [850] Analog Uhr - Uhrzeit ankreuzen, 12 Stunden

### Kreuze die richtige Uhrzeit an.


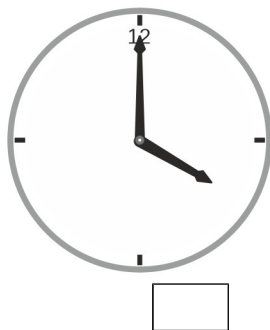
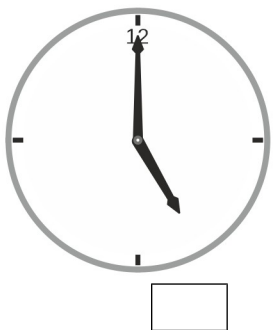
Auf welcher Uhr ist es 11 Uhr?






Auf welcher Uhr ist es 4 Uhr?



Auf welcher Uhr ist es 7 Uhr?



Auf welcher Uhr ist es 1 Uhr?



Der kleine Zeiger heißt Stundenzeiger.

Der große Zeiger heißt Minutenzeiger.


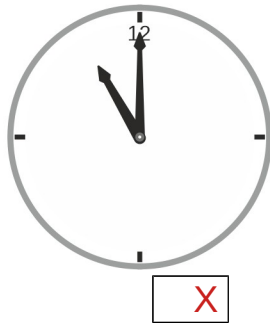
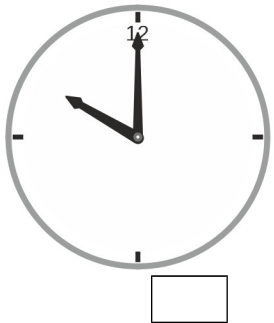
| Zahlbereich |        |        |        |        |        |        |         |           |            |               | Rechenoperationen |               |               |          |             | Grundlagen     |          |        |          |        |        |                |               |         |               |                     |
|-------------|--------|--------|--------|--------|--------|--------|---------|-----------|------------|---------------|-------------------|---------------|---------------|----------|-------------|----------------|----------|--------|----------|--------|--------|----------------|---------------|---------|---------------|---------------------|
| bis 9       | bis 10 | bis 20 | bis 30 | bis 40 | bis 50 | bis 70 | bis 100 | bis 1.000 | bis 10.000 | größer 10.000 | ohne 0            | ohne Übertrag | mit Merzkzahl | Addition | Subtraktion | Multiplikation | Division | Brüche | Prozente | Zahlen | Mengen | Ganzes / Teile | Dezimalsystem | Uhrzeit | Volle Stunden | ablesen & eintragen |

Der kleine Zeiger heißt Stundenzeiger und der große Zeiger heißt Minutenzeiger.

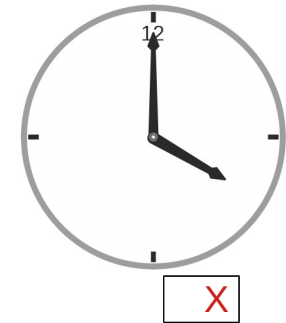

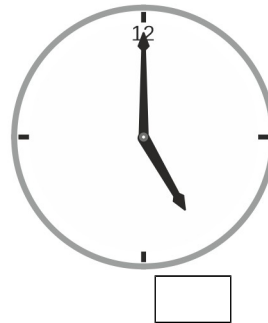
71\_10\_9 [850] Analog Uhr - Uhrzeit ankreuzen, 12 Stunden

**Kreuze die richtige Uhrzeit an.**


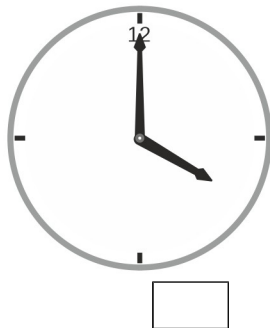
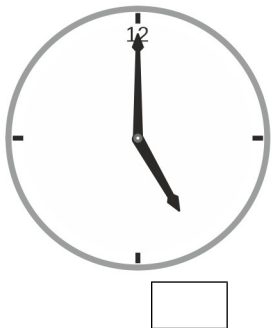
Auf welcher Uhr ist es 11 Uhr?



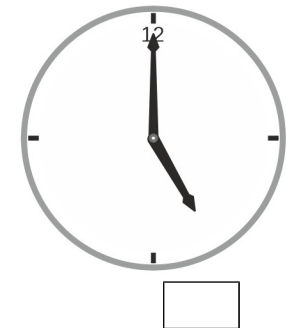


Auf welcher Uhr ist es 4 Uhr?



Auf welcher Uhr ist es 7 Uhr?



Auf welcher Uhr ist es 1 Uhr?



Der kleine Zeiger heißt Stundenzeiger.

Der große Zeiger heißt Minutenzeiger.